




Multiplikasjon og divisjon

Seksjon 2  

d)  $84 \cdot 6 =$

e)  $58 \cdot 7 =$

f)  $77 \cdot 5 =$



Oppgave 2.4

*Skriv stykkene i firkanten og multipliser!*

a)  $365 \cdot 6 =$


b)  $258 \cdot 7 =$

c)  $309 \cdot 5 =$


d)  $683 \cdot 9 =$

e)  $817 \cdot 6 =$

f)  $469 \cdot 7 =$



## Multiplikasjon og divisjon

Seksjon 2 

## Oppgave 2.5

*Skriv stykkene i firkanten og divider!*

a)  $124 : 4 =$


b)  $525 : 5 =$

c)  $387 : 3 =$

d)  $270 : 6 =$

e)  $408 : 2 =$

f)  $624 : 4 =$



## Oppgave 2.6

Anders får 65 kr i ukelønn. Hvor mye får han på en måned (4 uker)?

## Oppgave 2.7

Kjell Ove får 280 kr i månedslønn (4 uker). Regn ut hvor mye dette utgjør hver uke.

## Oppgave 2.8

Nina, Anders og Eli tipper Lotto sammen. En gang vant de 435 kr. De delte premien likt. Hvor mye fikk hver av dem?